

جامعة الإسكندرية

كلية الزراعة

قسم الاقتصاد وإدارة الأعمال الزراعية

إسم وكود المقرر: ٣٣١٥

اقتصاديات الأراضي الزراعية

مدة الامتحان: ساعتان

تاريخ وميعاد الامتحان: الثلاثاء ١١/١/٢٠١١

من ١٢-٢ ظهراً

درجة الامتحان: ٢١٠ درجة

العام الجامعي ٢٠١٠/٢٠١١ الفصل الدراسي الأول

لجنة الممتحنين: أ.د. محمد محمد الماحي ، أ.د. محمود شافعي ، أ.د. سعد زغول سليمان

تعليمات الاجابة: تناول بالشرح كل من:

- ١- خطوات تصميم الميزانية الإنتاجية. (٣٥ درجة)
 - ٢- معالم ومؤشرات عرض وطلب الموارد المائية. (٣٥ درجة)
 - ٣- تئمين الأراضي الزراعية. (٣٥ درجة)
 - ٤- معالم ومؤشرات مراحل تطور الملكية والحيازة الزراعية. (٣٥ درجة)
 - ٥- أنواع الفقد في المورد الأرضي . (٣٥ درجة)
 - ٦- عرض المورد الأرضي ووسائل زيادته. (٣٥ درجة)
- (نهاية أسئلة الامتحان)

مع أطيب التمنيات بالنجاح والتوفيق



اشعار الجامعي ٢٠١٢/٢٠١١ الفصل الدراسي الأول

لجنة الممتحنين: ١- أ.د. منيرة الحانق. ٢- أ.د. نشوى التطاوى. ٣- د. الحسين الصيفي.

تعليمات الإجابة: أجب على الأسئلة الآتية.

السؤال الأول: أذكر في نقاط محددة مستعينا بالمعادلات الرياضية والرسم البراهية كلما

أمكن ذلك: (١١٠ درجة)

- ١- عناصر الانتاج الصناعى.
- ٢- التنظيم.
- ٣- التشكيل.
- ٤- نموذج دييون.
- ٥- اشكال جانث.
- ٦- الفرق بين التقييم المالى والاقتصادى لمشروعات الصناعات الغذائية
- ٧- املاك الآلات.
- ٨- الجدوى الفنية لمشروعات التصنيع الغذائى.
- ٩- نقطة التعادل.
- ١٠- التخطيط الصناعى.
- ١١- العناصر الرئيسية لتقييم المشروعات.

السؤال الثانى: (١٠٠ درجة)

الجدول التالي يوضح الإيرادات والتكاليف المتوقعة لأحد المشروعات الصناعات الغذائية

السنة	إجمالي الإيرادات	إجمالي التكاليف	سعر الخصم			
			١٠%	١٥%	٢٠%	٢٥%
١	-	٥٠٠٠	٠,٩٠٩	٠,٨٧٠	٠,٨٣٣	٠,٨٠٠
٢	-	٢٠٠٠	٠,٨٣٦	٠,٧٥٦	٠,٦٩٤	٠,٦٤٠
٣	٤٠٠٠	١٠٠٠	٠,٧٥١	٠,٦٥٨	٠,٥٧٩	٠,٥١٢
٤	٤٠٠٠	١٠٠٠	٠,٦٨٣	٠,٥٧٢	٠,٤٨٢	٠,٤١٠
٥	٤٠٠٠	١٠٠٠	٠,٦٢١	٠,٤٩٧	٠,٤٠٢	٠,٣٢٨
٦	٣٠٠٠	١٠٠٠	٠,٥٦٤	٠,٤٣٢	٠,٣٣٥	٠,٢٦٢
٧	٢٠٠٠	١٠٠٠	٠,٥١٣	٠,٣٧٦	٠,٢٧٩	٠,٢١٠

المطلوب:

١- إجراء التحليل المالى لهذا المشروع.

٢- أذكر انطباعك عن هذا المشروع إذا علمت أن تكلفة الفرصة البديلة ١٠%.

(نهاية أسئلة الامتحان)

مع أطيب التمنيات بالنجاح والتوفيق



العام الجامعي ٢٠١٢/٢٠١١ الفصل الدراسي الأول

لجنة الممتحنين: أ.د. مراد زكي موسى، أ.د. أوليفيا صلاح، أ.د. نشوى النضاوي

تعليقات الإجابة:

أجب على جميع الأسئلة الآتية

السؤال الأول: (٣٠ درجة)

١- ما أهمية دراسة الاستهلاك

٢- أذكر نظرية الطالب الفعال لكينز.

٣- فروض نظرية المستهلك وفقاً لمنهج المنفعة الكلاسيكي.

٤- توقف توزيع الدخل بين الاستهلاك والادخار على توقعات المستقبل بالنسبة للدخل الذي يحصل عليه المستهلك

أما يتوقف على مدى اليقين بالنسبة للتوقعات في المستقبل. اشرح ذلك.

السؤال الثاني: (٥٠ درجة)

وضح بالرسم فقط:

١- الدالة الاستهلاكية والدالة الادخارية

٢- سياسة التفرقة السعرية

٣- التأثير الداخلي والتأثير الاحلالي

٤- العلاقة بين العائد الحدي والعائد الكلي ومرورنا الطلب السعرية

السؤال الثالث: (٦٠ درجة)

١- أثبت أن المعدل الحدي للاحتلال بين سلعتين يساوي النسبة السعرية بينهما

٢- أذكر خصائص دالة الطلب المشتقة مع إثبات احدي هذه الخصائص.

٣- يتحقق توارن المستهلك بطرق مختلفة. أذكرها.

٤- العلاقة بين العائد الحدي والعائد الكلي ومرورنا الطلب السعرية

السؤال الرابع: (٤٠ درجة)

١- إذا كانت دالة الطلب السعرية هي $S = 25 - 5K$

أو جد العائد الحدي مستخدماً مرونة الطلب السعرية في احتسابه مرة وبدون استخدام مرونة الطلب مرة أخرى

٢- إذا علمت أن الاستهلاك الفردي من السلعة أ هي ١٠٠ وحدة في عام ٢٠٠٠ ومرونة الطلب الداخلية للسلعة

$= 0.3$ ، وإذا علم أن عدد السكان سيزيد بمقدار ٣٠% في عام ٢٠١٠ وأن الدخل الفردي سيزيد بمقدار ٤٠%

في عام ٢٠١٠ وستظل الأسعار كما هي بدون تغيير. احسب الكميات المطلوبة من السلعة أ في عام ٢٠١٠

علماً بأن عدد السكان في عام ٢٠٠٠ كان ٧٠ مليون نسمة.

نهاية أسئلة الامتحان

مع أطيب التمنيات بالنجاح والتوفيق،،،

جامعة الإسكندرية

كلية الزراعة

قسم الاقتصاد وإدارة الأعمال

الزراعية

الفرقة: الثالثة



اسم وكود المقرر: ٠٣٣٠٧ (لائحة قديمة)

اقتصاديات الإنتاج الزراعي

مدة الامتحان: ساعتان

تاريخ وميعاد الامتحان: ٢٠١٢/١/٨ من ٢-١٢

الدرجة النظرية للامتحان: ٢١٠ درجة

العام الجامعي ٢٠١٢/٢٠١١ الفصل الدراسي الأول

لجنة الامتحان: ا.د. حسني حبيب متولي، ا.د. رفعت نقوشة، ا.د. سعد زخول سليمان

تعليمات الإجابة:

أجب على جميع الأسئلة الآتية

السؤال الأول: (٦٠ درجة)

بين بانتصار المقصود بكل من:

الإنتاج - النشاط الإنتاجي - الكفاءة التكنولوجية - الكفاءة الاقتصادية - الموارد متدفقة الخدمات - الوحدة الإنتاجية - الوحدة الاقتصادية - الوحدة التكنولوجية - دالة إنتاج المدى الزمني الطويل - الأسلوب الإنتاجي

السؤال الثاني: (٥٠ درجة)

اذكر فقط فروض تحليل قانون النسب المتغيرة، مبيناً نص القانون، ثم اختار إحدى مراحله وتناولها بالتفسير.

السؤال الثالث: (٥٠ درجة)

نادراً ما يؤدي تعظيم الإنتاج إلى تعظيم صافي الدخل. بين ذلك

السؤال الرابع: (٥٠ درجة)

تناول دالتين من دوال الإنتاج التي درستها مبيناً أهم خصائص كل منهما من خلال مرونة الإنتاج والنتاج الحدي والنتاج المتوسط.

نهاية أسئلة الامتحان

مع أطيب التمنيات بالنجاح والتوفيق،،،



العام الجامعي ٢٠١٢/٢٠١٣ الفصل الدراسي الأول

لجنة الممتحنين: أ.د. السيد الشرقاوي، أ.د. حسني حبيب، أ.د. سعد زخاويل

تعليمات الإجابة:

أجب على جميع الأسئلة

السؤال الأول: (٧٠ درجة)

(أ) عرف كل من : الشليشة - القماط - الهامش التسويقي - الخدمات التسويقية -- التوحيد القياسي؟

(ب) أذكر مراحل عملية الشراء؟ (ج) ماهي الأهمية الاقتصادية للتخزين؟

السؤال الثاني: (٧٠ درجة)

(أ) بين أنواع الوسطاء والتسويقيين الزراعيين مفرقاً بين كل من الوسيط التاجر والوسيط العميل وكذلك تاجر

الجملة وتاجر التجزئة؟

(ب) تناول بإيجاز كل من:

- الجماعات التسويقية الزراعية وأهداف كل منها؟

- مفهوم السوق الكاملة وعناصرها؟

- أذكر فقط مناهج البحث في الدراسات التسويقية مع شرح واحدة منها؟

السؤال الثالث: (٧٠ درجة)

أذكر شروط تطبيق سياسة التفرقة السعرية لبيع سلعة معينة في مكانين أي سوقين مختلفين لتحقيق أكبر إجمالي

دخل للمنشأة التسويقية مع الاستعانة بالرسم البياني؟

نهاية أسئلة الامتحان

مع ألبين التمنيات بالنجاح والتوفيق،،،



العام الجامعي ٢٠١٢/٢٠١٣ الفصل الدراسي الأول

لجنة الممتحنين: ١- أ.د. نشوى النطاوي. ٢- أ.د. الحسين الصيغى. ٣- د. سامح شهاب.

تعليمات الإجابة: أجب على الأسئلة الآتية.

السؤال الأول: (٦٠ درجة)

أذكر في نقاط محددة مستعينا بالمعادلات الرياضية والرسم البياني كلما أمكن ذلك:

١- عناصر الانتاج الصناعي.

٢- التخطيط.

٣- املاك الآلات.

٤- نقطة التعادل.

٥- التنظيم.

٦- الفرق بين التقييم المالي والاقتصادي لمشروعات الصناعات الغذائية

السؤال الثاني: (٨٠ درجة)

الجدول التالي يوضح الإيرادات والتكاليف المتوقعة لأحد المشروعات الصناعات الغذائية

السنة	إجمالي الإيرادات	إجمالي التكاليف	سعر الخصم			
			%١٠	%١٥	%٢٠	%٢٥
١	-	٣٠٠٠	٠,٩٠٩	٠,٨٢٠	٠,٨٣٣	٠,٨٠٠
٢	١٠٠٠	٢٠٠٠	٠,٨٣٦	٠,٧٥٦	٠,٦٩٤	٠,٦٤٠
٣	٤٠٠٠	١٠٠٠	٠,٧٥١	٠,٦٥٨	٠,٥٧٩	٠,٥١٢
٤	٢٠٠٠	١٠٠٠	٠,٦٨٢	٠,٥٧٢	٠,٤٨٢	٠,٤١٠
٥	٢٠٠٠	١٠٠٠	٠,٦٢١	٠,٤٩٧	٠,٤٠٢	٠,٣٢٨

المطلوب: إجراء التحليل المالي لهذا المشروع. وأذكر انطباعك عن هذا المشروع إذا علمت أن

تكلفة الفرصة البديلة %١٠.

السؤال الثالث: (٧٠ درجة)

(١) وضع مع الرسم مراحل دالة الإنتاج - (الناتج المعظم للربح - الناتج الأمثل - نقطة الإغلاق)

(٢) محددات النموذج السوقي موضعاً توازن المنتج في سوق الاحتكار الكامل في المدى الطويل.

(نهاية أسئلة الامتحان)

مع أطيب التمنيات بالنجاح والتوفيق

جامعة الإسكندرية

كلية الزراعة

قسم الاقتصاد وإدارة الأعمال الزراعية

إسم ورقم المقرر: ٣٣١٥

اقتصاديات الأراضي الزراعية

مدة الامتحان: ساعتان

تاريخ وميعاد الامتحان: الثلاثاء ١١/١/٢٠١١

من ١٢-٢ ظهراً

درجة الامتحان: ٢١٠ درجة

العام الجامعي ٢٠١٠/٢٠١١ الفصل الدراسي الأول

لجنة الممتحنين: أ.د. محمد محمد الماحي ، أ.د. محمود شافعي، أ.د. سعد رغلول سليمان

تعليمات الإجابة: تناول بالشرح كل من:

- ١- خطوات تصميم الميزانية الإنتاجية. (٣٥ درجة)
 - ٢- معالم ومؤشرات عرض وطلب الموارد المائية. (٣٥ درجة)
 - ٣- تهمين الأراضي الزراعية. (٣٥ درجة)
 - ٤- معالم ومؤشرات مراحل تطور الملكية والحيارة الزراعية. (٣٥ درجة)
 - ٥- أنواع النقص في المورد الأرضي. (٣٥ درجة)
 - ٦- عرض المورد الأرضي ووسائل زيادته. (٣٥ درجة)
- (نهاية أسئلة الامتحان)

مع أطيب التمنيات بالنجاح والتوفيق

العام الجامعي ٢٠١١/٢٠١٠ الفصل الدراسي الأول

لجنة الممتحنين: أ.د. رفعت لقوشة ، أ.د. سعد زغلول سليمان، أ.د. هسني متولي*

تعليمات الاجابة: أجب على جميع الأسئلة

السؤال الأول: (٧٠ درجة)

(أ) تناول كل من دالة "كوب دو جلاس" ، والدالة الخطية أو النموذج الخطي، مبيناً صفات وخصائص كل منهما.

(ب) عالجت نظرية الإنتاج المعدلة القصور الوارد في نظرية الإنتاج التقليدية . بين ذلك، ثم تناول بالتحليل العلاقة بين العائد والتكاليف في إطار هذه النظرية.

السؤال الثاني : بين باختصار المقصود بكل من: (٧٠ درجة)

الوحدة الاقتصادية (الإنشاء) -- الكفاءة الاقتصادية -- الكفاءة التكنولوجية -- الموارد متدفقة الخدمات -- المرحلة التكنولوجية -- المرحلة الاقتصادية -- دالة الإنتاج طويلة المدى -- علم اقتصاديات الإنتاج الزراعي - ترايد عوائد السعة -- الممكنات الإنتاجية والمنتجات المتنافسة أو المكملة.


السؤال الثالث (٧٠ درجة)

(أ) لا يستهدف المنتج تعظيم الإنتاج ، وإنما يستهدف تعظيم صافي الدخل . تناول ذلك بالتحليل، مبيناً عدم تحقق الهدفين معاً عند نقطة واحدة إلا إذا توافرت شروط معينة.

(ب) بين القواعد الاقتصادية التي تحدد أرباح توافية من ناتجين باستخدام أكثر من عنصر إنتاجي واحد.

(نهاية أسئلة الامتحان)

مع أطيب التمنيات بالنجاح والتوفيق



جامعة الإسكندرية

كلية الزراعة

قسم الاقتصاد وإدارة الأعمال

الزراعية

الفرقة: الثالثة



اسم وكود المقرر: ٠٣٣١٢

اقتصاديات التسويق الزراعي

مدة الامتحان: ساعتان

تاريخ وميعاد الامتحان: ٢٠١٢/١/١٩ من ١٢-٢

الدرجة الكلية للامتحان: ١٢٠ درجة

العام الجامعي ٢٠١٢/٢٠١١ الفصل الدراسي الأول

جنة الممتحنين: أ.د. السيد محمود الشرقاوي، أ.د. حسني حبيب السيد متواي، أ.د. سعد زغول سليمان

تعليمات الإجابة:

أجب على الأسئلة الآتية

السؤال الأول: (٤٠ درجة)

- هناك الخدمات التسويقية وهناك أيضاً الوظائف (المراحل) التسويقية.. فإذا كنت توافق على ذلك وضح رأيك في ضوء معلوماتك التسويقية آخذاً في الاعتبار من:
- ١- أذكر فقط كل من تلك الخدمات والوظائف التسويقية الزراعية.
 - ٢- الأهمية الاقتصادية لوظيفة الفرز والتدريج للسلع الزراعية.
 - ٣- استخدم الأرقام للدلالة على الهوامش التسويقية التي يحصل عليها الوسطاء في المسلك التسويقي في ضوء ما درست من الأسواق الزراعية نظير قيامهم بالوظائف التسويقية.

السؤال الثاني: (٤٠ درجة)

- ١- عرف السوق السوداء، ثم بين أهم النتائج التي يمكن استنتاجها من تحليل هذه السوق وفقاً لمنحنيات العرض والطلب.
- ٢- فرق بين كل من:
 - .. المضاربة الثابتة والمضاربة المتغيرة.
 - .. الكارتل المركزي وكارتل المشاركة السوقية.
 - .. الوسيط التاجر والوسيط العميل.
 - .. الأسهم والسندات.

السؤال الثالث: (٤٠ درجة)

أجب على اثنين فقط مما يلي:

- ١- بين أنواع أسواق السلع الزراعية على أساس البعد عن مكان الإنتاج وأحجام التعامل وكذلك على أساس وقت التسليم والاستلام.
- ٢- أذكر أنواع الجماعات التسويقية الزراعية مبيناً أهداف كل منها، وموضحاً كيفية تحقيق الكفاءة التسويقية من خلال هذه الجماعات.
- ٣- بين التقلبات السعرية الثابتة والمتغيرة والمتباعدة في إطار نظرية التوازن العكسوتي، ثم أذكر الوظائف الرئيسية للأسعار مبيناً التغيرات السعرية نتيجة انتقال منحنى الطلب.

نهاية أسئلة الامتحان

مع أطيب التمنيات بالنجاح والتوفيق،،،

السيد

العام الجامعي ٢٠١١/٢٠١٠ الفصل الدراسي الأول

لجنة الممتحنين: أ.د. السيد الشرقاوي ، أ.د. سعد زغلول سليمان ، د. حسني حبيب متولي

تعليمات الاجابة: أجب على جميع الأسئلة

السؤال الأول: (٨٠ درجة)

بعد تخرجك وجدت وظيفة مدير تسويق في شركة زراعية وعمل لك مقابلة شخصية

مع مدير الشركة فسألك عدة أسئلة لكي يختبر معلوماتك هي:

(أ) متى نتصحنا بتخزين السلعة لكي نحصل على عائد أكبر في المستقبل (٢٠ درجة)

(ب) متى تكون السيارات أفضل من السكك الحديدية في نقل السلعة (٢٠ درجة)

(ج) إذا أردنا أن ننشئ مصنع للمياه الغازية ياتري أين يكون مكانه (٢٠ درجة)

(د) متى نتصحنا بالقيام بالمضاربة في السوق على الساعة (٢٠ درجة)

ماهي إجابتك عن ذلك في جمل قصيرة ومحددة من واقع دراستك للتسويق؟

السؤال الثاني: (٥٠ درجة)

(أ) عرف السوق، ثم بين أنواع أسواق السلع الزراعية على أساس كل من، البعد عن

مكان الإنتاج وأحجام التعامل (٢٠ درجة)

(ب) أذكر أسباب التدخل الحكومي في تحديد الأسعار، ثم تناول بالتحليل حالة تحديد سعر

أقل من سعر التوازن (استعن بالرسم البياني) (٣٠ درجة).

السؤال الثالث: (٨٠ درجة)

(أ) عرف البورصة أو السوق التبادلية المنظمة، ثم قارن في صورة جدول بين كل من السوق

الأولية (إصدار) والسوق التبادلية (تداول) لبورصات الأوراق المالية (٣٠ درجة)

(ب) أكتب باختصار عن كل من : (٥٠ درجة)

- التغيرات السعرية الموسمية.

- الكارنل المركزي وكارنل المشاركة السوقية.

- مفهوم المضاربة الثابتة والمضاربة الشرطية.

- مبدأ الدولة الأولى بالرعاية (اتفاقية الجات)

- اثنين من مؤشرات قياس الأهمية النسبية للورقة المالية في البورصة.

(نهاية أسئلة الامتحان)

مع أطيب التمنيات بالنجاح والتوفيق

العام الجامعي ٢٠١٠/٢٠١١ الفصل الدراسي الأول

لجنة الممتحنين: أ.د. أوليفيا السيد صالح ، أ.د. مراد زكي، أ.د. نشوى التطاوي

تعليمات الإجابة: أجب على جميع الأسئلة

السؤال الأول: (٤٠ درجة)

- أ- كيف تتم العملية الاستهلاكية.
- ب- ما المقصود بمعدل التفضيل الزمني وما علاقته بتوزيع الدخل بين الاستهلاك والادخار.
- ج- أذكر الطرق المختلفة لاشتقاق دوال الطلب الاستهلاكي ثم اشرح بالتفصيل إحدى هذه الطرق.

السؤال الثاني: (٥٥ درجة)

(١) وضح بالرسم فقط

- أ- منحنيات انحدار ومنحنى انحدار المعدل (مذحني براون)
- ب- التأثير الداخلي والتأثير الاحلالي.
- ج- متى يكون ترشيد الاستهلاك ملزم ومتى يكون غير ملزم.
- (٢) أثبت أن مجموع مرونة الدخل المرجحة تساوي الوحدة (١) لدالة الطلب المشتقة.

السؤال الثالث (٥٥ درجة)

- أ- باستخدام العلاقة بين العائد الحدي مرونة الطلب السعرية بين مايلي:
- متى يكون العائد الحدي مساوياً للمنفرد
 - متى يكون العائد الحدي سالباً.
 - متى يكون العائد الحدي موجباً.
 - متى يتعادل الأيراد الحدي مع السعر.
- ب- ما الفرق بين المرونة التبادلية والمرونة الاحلالية وماهي أهم تطبيقات مرونة الطلب.
- ج- ما ذا يعني الغلاء وماهي الاعتبارات المؤثرة في تفاوت درجة احساس المستهلكين بالغلاء داخل كل فئة أو طبقة.

د- ما هو الفرق بين الفائض الاقتصادي الفعلي والفائض الاقتصادي الممكن.

السؤال الرابع: (٣٥ درجة)

أ- أثبت أنه عندما يكون السعر ضعفت الأيراد الحدي تكون مرونة الطلب السعرية = -٢

ب- إذا كانت دالة المنفعة الساعية أمستهلك ماهي: $ك_٢ = ك_١^٢ - ٦ ك_١ + ١٠$ وكانت دالة ميزانية المستهلك $٢٠ ك_٢ + ١٠ ك_١ = ١٢٠$ المطلوب: تحديد الكميات من $ك_١$ ، $ك_٢$ التي تحقق التوازن

(نهاية أسئلة الامتحان)

مع أطيب التمنيات بالنجاح والتوفيق

أوليفيا السيد صالح

٣١٢

اسم وكود المقرر: اقتصاد زراعي (تسويق زراعي)

مدة الامتحان: ساعتان

تاريخ وميعاد الامتحان: ٢٠١٤/١/٢٢ من ٢-١٢
الدرجة الكلية للامتحان: ١٢٠ درجة



جامعة الإسكندرية
كلية الزراعة
قسم الاقتصاد وإدارة الأعمال
الزراعية
الفرقة: ثلاثة

العام الجامعي ٢٠١٤/٢٠١٥ الفصل الدراسي الأول

لجنة الممتحنين: أ.د. السيد الشرفقواوي، أ.د. الهادي العريفي، أ.د. محمد زخلول

تعليمات الإجابة:

أجب على نقطة واحدة فقط (أ) أو (ب) من كل سؤال

السؤال الأول: (٢٠ درجة)

(أ) التفرقة السعرية (ب) أنواع حركة انتقالات العرض

السؤال الثاني: (٢٠ درجة)

الهوامش التسويقية: (أ) الخضار والفاكهة (ب) للألبان

السؤال الثالث: (٢٠ درجة)

المفهوم السوقي المحلي: (أ) الشلينة - الأدالة - الدولار
(ب) المسلك التسويقي - الكلالة - المراية

السؤال الرابع: (٢٠ درجة)

الوظيفة الاقتصادية لـ: (أ) التعبئة والنقل
(ب) التخزين والدماية والإعلان.

السؤال الخامس: (٢٠ درجة)

الأهمية الاقتصادية لـ: (أ) التكامل التسويقي.
(ب) العمليات التصنيعية الكاسية والخاسرة لا وزن؟

السؤال السادس: (٢٠ درجة)

أيه رأيك في: (أ) إلغاء اليورصة
(ب) إلغاء دور تاجر التجزئة.

* ملحوظة هامة: إذا أجبت على (أ)، (ب) معاً من أي سؤال سيتم شطب إجابتهما معاً حتى لو كانت الإجابة صحيحة ووضح الإجابة برسم الأشكال إن كانت هناك ضرورة وإن وجدت.

نهاية أسئلة الامتحان

مع أطيب التمنيات بالنجاح والتوفيق،،،

جامعة الإسكندرية

كلية الزراعة

قسم الاقتصاد وإدارة الأعمال الزراعية

الفرقة: الثالثة



اسم وكود المقرر: ٣٣٢٩

اقتصاديات التصنيع الغذائي ودراسات الجدوى

مدة الامتحان: ساعتان

تاريخ وميعاد الامتحان: ٢٠١٥/١/١٥ (٢-١٢)

الدرجة الكلية للامتحان: ١٨٠ درجة

٦

العام الجامعي ٢٠١٥/٢٠١٤ الفصل الدراسي الأول

أجنته الممتحنين: أ.د. منيرة الحاذق، أ.د. نشوى التطاوي، أ.د. الحسين الصيفي.

تعليمات الإجابة: اجب على جميع الأسئلة:

السؤال الأول: (١٠٠ درجة) تكلم في نقاط متعددة عن عشر نقاط فقط فقط مستعينا بالرسوم التوضيحية والمعادلات الرياضية كلما أمكن ذلك:

- ١- شركات التضامن.
- ٢- نقطة التعادل.
- ٣- عناصر الإنتاج الصناعي.
- ٤- الشركات المساهمة.
- ٥- الجدوى الفنية.
- ٦- شركات التوصية البسيطة.
- ٧- الاهلاك.
- ٨- الادارة.
- ٩- اساليب التنوير بالطلب.
- ١٠- الربح وهامش الربح.
- ١١- الاصول.
- ١٢- الايرادات والتكاليف.

السؤال الثاني: (٨٠ درجة) اجسول التالي يوضح الايرادات والتكاليف المتوقعة لأحد مشروعات الصناعات الغذائية

السنة	إجمالي الإيرادات	إجمالي التكاليف	بدر الخصم			
			١٠%	٢٠%	٢٥%	
١	٨٠٠٠	٨٠٠٠	٠.٩٠٩	٠.٨٣٢	٠.٨٠٠	
٢	٦٠٠٠	٦٠٠٠	٠.٨٣٦	٠.٦٩٤	٠.٦٤٠	
٣	٦٠٠٠	٦٠٠٠	٠.٧٥١	٠.٥٧٩	٠.٥١٢	
٤	٦٠٠٠	٦٠٠٠	٠.٦٨٣	٠.٤٨٢	٠.٤١٠	
٥	٦٠٠٠	٦٠٠٠	٠.٦٢١	٠.٤٠٢	٠.٣٢٨	
٦	٦٠٠٠	٦٠٠٠	٠.٥٦٤	٠.٣٣٥	٠.٢٦٢	
٧	٤٠٠٠	٤٠٠٠	٠.٥١٣	٠.٢٧٩	٠.٢١٠	

المطلوب: اجراء التحليل المالي لهذا المشروع إذا علمت أن تكلفة الفرصة البديلة ١٠%.

نهاية أسئلة الامتحان

مع أطيب التمنيات بالنجاح والتوفيق،،،

العام الجامعي ٢٠١٠/٢٠١١ الفصل الدراسي الأول

لجنة الممتحنين: أ.د. أوليفيا صالح، أ.د. منيره الحاذق، أ.د. الحسين الصيفي

تعليمات الاجابة: اجب على جميع الأسئلة

السؤال الأول: (٥٥ درجة)

أ- بين الفرق بين

- المتغير المتصل والمتغير المنفصل
- البيانات الخام والبيانات الثانوية
- المدرج التكراري وطريقة الأعمدة

ب- بين بالرسم فقط:

- المنحنى الأسّي
- المنحنى المتجمع الصاعد
- خصائص معامل الارتباط
- أشكال الانتشار التي تبين عدم وجود ارتباط.

السؤال الثاني: (٦٠ درجة)

$$\frac{\text{س. ص}}{\text{م. ص} - \text{ن. ص}} = \frac{\text{م. ص} - \text{ن. ص}}{\text{ن. ص} - \text{ع. ص}}$$

أ- اثبت أن

$$\frac{\text{س. ص}}{\text{م. ص} - \text{ن. ص}} = \frac{\text{م. ص} - \text{ن. ص}}{\text{ن. ص} - \text{ع. ص}}$$

ب- الجدول الآتي يبين العلاقة بين الكمية المعروضة بالكيلو جرام والسعر بالجنيه

السعر	١	٢	٣	٤	٥	٦	٧	٨
الكمية المعروضة	٥	١٣	١٦	٢٣	٢٣	٣٨	٤٥	٤٣

المطلوب: ايجاد (١) معامل الارتباط بين الكمية المعروضة والسعر (ارتباط بيرسون)

(٢) خط انحدار الكمية على السعر

(٣) الكمية المعروضة عند سعر ١٥ جنيهاً.

السؤال الثالث: (٦٥ درجة)

أ- في خلال خمسة سنوات متتالية اشترى صاحب منزل بترول لتدفئة المنزل بتكلفة ٢,١، ٢,٥، ١,٦، ١,٨، ٢,٤ جنيه للتر الواحد على الترتيب.

ماهي متوسط تكلفة البترول في خلال السنوات الخمسة.

ب- يمثل الجدول التكراري الآتي مدناً مختلفة موزعة حسب أعداد السكان

فئات السكان	-٢٠	-٣٠	-٤٠	-٥٠	-٦٠	-٧٠	أقل من ٨٠
عدد المدن	٨	١٠	٢٥	٢٣	١٢	٦	٦

المطلوب: (١) رسم المضلع التكراري لهذا التوزيع

(٢) حساب الوسط الهندسي للتوزيع

(٣) حساب تباين هذا التوزيع

(٤) الانحراف المتوسط للتوزيع.

(نهاية أسئلة الامتحان)

مع أطيب التمنيات بالنجاح والتوفيق

م.د. هادي ح. السيد

العام الجامعي ٢٠١١/٢٠١٠ الفصل الدراسي الأول

لجنة الممتحنين: أ.د. السيد الشرقاوي ، أ.د. سعد زغول سليمان ، د. حسني حبيب متولي

تعليمات الإجابة: أجب على جميع الأسئلة

السؤال الأول: (٨٠ درجة)

بعد تخرجك وجدت وظيفة مدير تسويق في شركة زراعية وعمل لك مقابلة شخصية مع مدير الشركة فسألك عدة أسئلة لكي يختبر معلوماتك هي:

(أ) متى نتصحننا بتخزين السلعة لكي نحصل على عائد أكبر في المستقبل (٢٠ درجة)

(ب) متى تكون السيارات أفضل من السكك الحديدية في نقل السلعة (٢٠ درجة)

(ج) إذا أردنا أن ننشئ مصنع المياه الغازية ياترى أين يكون مكانة (٢٠ درجة)

(د) متى نتصحننا بالقيام بالمضاربة في السوق على السلعة (٢٠ درجة)

ماهي إجابتك عن ذلك في جمل قصيرة ومحددة من واقع دراستك للتسويق؟

السؤال الثاني: (٥٠ درجة)

(أ) عرف السوق، ثم بين أنواع أسواق السلع الزراعية على أساس كل من، البعد عن

مكان الإنتاج وأحجام التعامل (٢٠ درجة)

(ب) أذكر أسباب التدخل الحكومي في تحديد الأسعار، ثم تناول بالتفصيل حالة تحديد سعر

أقل من سعر التوازن (استعن بالرسم البياني) (٣٠ درجة).

السؤال الثالث: (٨٠ درجة)

(أ) عرف البورصة أو السوق التبادلية المنظمة، ثم قارن في صورة جدول بين كل من السوق

الأولية (إصدار) والسوق التبادلية (تداول) لبورصات الأوراق المالية (٢٠ درجة)

(ب) أكتب باختصار عن كل من : (٥٠ درجة)

- التغيرات السعرية الموسمية.

- الكارنل المركزي وكارنل المشاركة السوقية.

- مفهوم المضاربة الثابتة والمضاربة الشرطية.

- مبدأ الدولة الأولى بالرعاية (اتفاقية الجات)

- اثنين من مؤشرات قياس الأهمية النسبية للورقة المالية في البورصة.

(نهاية أسئلة الامتحان)

مع أطيب التمنيات بالنجاح والتوفيق

العام الجامعي ٢٠١١/٢٠١٠ الفصل الدراسي الأول

لجنة الممتحنين: أ.د. الحسين الصيقي ، واللجنة المشتركة

تعليمات الاجابة: أجب على جميع الأسئلة

السؤال الأول: (٧٠ درجة)

- ١- ماهي شروط سوق المنافسة الكاملة موضحاً بالرسم توازن المنتج في المدى الطويل.
- ٢- ماهي المعايير المستخدمة في دراسات الجدوى الاقتصادية؟
- ٣- ماهي فوائد السجلات المزرعية؟

السؤال الثاني: (٧٠ درجة)

وضح مع الرسم :

تمدد وإنكماش الطلب - انتقال الطلب - مراحل دالة الإنتاج - دالة متوسطات التكاليف - العلاقة بين دالة الإنتاج ودالة التكاليف - منحنى طلب لانتهائي المرنة - منحنى طلب مرن - منحنى طلب غير مرن - سجل الدين اليومي والأسبوعي - سجل النشرة اليومية.

السؤال الثالث: (٧٠ درجة)

إذا كانت لديك البيانات التالية:

- ١- سحب المهندس أحمد من البنك مبلغ وقدره ١٢٠٠٠٠ جنيه أودعهم خزينة المزرعة في يوم ٢٠١٠/١/١.
 - ٢- اشترى أعلاف قيمتها ٤٠٠٠ جنيه على الحساب من الشركة المتحدة للأعلاف يوم ٢٠١٠/١/٢.
 - ٣- باع أعلاف قيمتها ٢٠٠٠ جنيه نقداً في يوم ٢٠١٠/١/٤.
 - ٤- سدد مبلغ ١٥٠٠ جنيه من حساب الأعلاف إلى الشركة المتحدة للأعلاف في ٢٠١٠/١/٥.
 - ٥- دفع أجور عمالة قدرها ٤٠٠ جنيه يوم ٢٠١٠/١/٦.
- المطلوب: تقييد هذه القيود في دفتر اليومية وترحيلها إلى دفتر الأستاذ ، وعمل ميزان مراجعة بالأرصدة والمجاميع.

(نهاية أسئلة الامتحان)

مع أطيب التمنيات بالنجاح والتوفيق

العام الجامعي ٢٠١١/٢٠١٠ الفصل الدراسي الأول

لجنة الممتحنين: أ.د. رفعت اقوشة ، أ.د. سعد زغلول سليمان، أ.د. حسني متولي*

تعليمات الاجابة: أجب على جميع الأسئلة

السؤال الأول: (٧٠ درجة)

(أ) تناول كل من دالة "كوب دو جلاس" ، والدالة الخطية أو النموذج الخطي، مبيناً صفات وخصائص كل منهما.

(ب) عالجت نظرية الإنتاج المعدلة القصور الوارد في نظرية الإنتاج التقليدية . بين ذلك، ثم تناول بالتحليل العلاقة بين العائد والتكاليف في إطار هذه النظرية.

السؤال الثاني : بين باختصار المقصود بكل من: (٧٠ درجة)

الوحدة الاقتصادية (الإنشاء) - الكفاءة الاقتصادية - الكفاءة التكنولوجية - الموارد متدفقة
الخدمات - المرحلة التكنولوجية - المرحلة الاقتصادية - دالة الإنتاج طويلة المدى - علم اقتصاديات
الإنتاج الزراعي - تزايد عوائد السعة - الممكنات الإنتاجية والمنتجات المتنافسة أو المكملة.

السؤال الثالث (٧٠ درجة)

(أ) لا يستهدف المنتج تعظيم الإنتاج ، وإنما يستهدف تعظيم صافي الدخل .
تناول ذلك بالتحليل، مبيناً عدم تحقق الهدفين معاً عند نقطة واحدة إلا إذا تسوافرت شروط معينة.

(ب) بين القواعد الاقتصادية التي تحدد أرباح توليفة من ناتجين باستخدام أكثر من عنصر إنتاجي واحد.

(نهاية أسئلة الامتحان)

مع أطيب التمنيات بالنجاح والتوفيق



العام الجامعي ٢٠١٢/٢٠١٣ الفصل الدراسي الثاني

لجنة الممتحنين: ١. أ.د. رفيق بسيم. ٢. أ.د. رفعت لقوشة. ٣. د. سامح شهاب.

تعليمات الإجابة: ١. أجب على الأسئلة الآتية. ٢. عدد الصفحات: (٢).

السؤال الأول:

(٤٠ درجة)

١. عرف المفاهيم التالية من المنظور التمويلي والائتماني: (٢٠ درجة)

علم التمويل الزراعي . الائتمان الزراعي . القرض . الإدارة المالية . الادخار المالي . الرفع المالي . نقطة التعادل . سلسلة عمليات الائتمان . الكفاءة الاقتصادية . تأجيل القرض .

٢. أنقل أرقام العبارات فقط في دراسة الإجابة ، ثم حدد النوع الائتماني في الحالات التالية: (٢٠ درجة)

- (١) ائتمان يتأخر سداد الأصل والفوائد بمدة لا تقل عن ستة أشهر من تاريخ الاستحقاق.
- (٢) ائتمان يتم فيه سداد الأصل والفوائد في مواعيد الاستحقاق.
- (٣) ائتمان يتأخر سداد الأصل والفوائد بمدة لا تقل عن ثلاثة أشهر من تاريخ الاستحقاق.
- (٤) ائتمان احتمال تحصيله كائياً أو جزئياً مشكوكاً فيه دون أن يكون في الإمكان تحديد الخسارة أو موعد حدوثها بدقة.
- (٥) الائتمان الأمثل والذي يؤدي إلى زيادة الإنتاج.
- (٦) فئة الحسابات التي استنفدت كافة الوسائل الممكنة لتحصيلها بحيث أصبح مستحيلاً استردادها.
- (٧) ائتمان يتأخر سداد الأصل والفوائد بمدة لا تقل عن اثنا عشر شهراً من تاريخ الاستحقاق.
- (٨) مجموع القروض النقدية الممنوحة من البنوك والتي وجهت لأغراض غير متفق عليها.
- (٩) ائتمان لا يؤدي إلى زيادة الإنتاجية بل يمثل عبئاً على العملية الإنتاجية.
- (١٠) الرغبة في الحصول على رؤوس الأموال الائتمانية والقدرة على سداد الالتزامات.

السؤال الثاني

(٤٠ درجة)

(١٥ درجة)

١. اذكر فقط كل من:

- (١) تشابه مفهوم الائتمان ، مفهوم المديونية.
- (٢) المبادئ الأساسية للسياسة الائتمانية.
- (٣) أنواع ضمانات. القروض.
- (٤) هدف السياسة الائتمانية الزراعية، والزراعية المثلي.
- (٥) المقومات الأساسية لنجاح وفاعلية نظام متابعة القروض.

(١ من ٢) تابع ←

٢ - وضح الفرق بين كل من :

(٢٥ درجة)

- (١) قيمة الأيجار ، سعر الفائدة.
- (٢) المشروعات الصغيرة ، المشروعات متناهية الصغر.
- (٣) المشكلة التمويلية من وجهة نظر المزارع ، المشكلة التمويلية من وجهة نظر الدولة.
- (٤) سعر الفائدة الامتلافي ، سعر الفائدة الاستثماري.
- (٥) الإستراتيجية العامة للبنك ، السياسة الائتمانية.

السؤال الثالث :

(٤٠ درجة)

" يُعد بنك التنمية والائتمان الزراعي أحد البنوك المتخصصة ، والذي يستهدف تحقيق التنمية الزراعية بصفة عامة ، وتنمية الريف المصري بصفة خاصة "

في ضوء ذلك وضح ما يلي :

- (١) الأهداف والمجالات الرئيسية لبنك التنمية والائتمان الزراعي المصري. (١٠ درجات)
- (٢) معايير الجدارة الائتمانية للمعمل ، والكفاءة التشغيلية للبنك. (١٠ درجات)
- (٣) الأساليب الإحصائية والوصفية والمقاييس والمؤشرات المستخدمة في تقييم مستوى الأداء في مؤسسات الإقراض الزراعي. (٢٠ درجة)

..... (نهاية أسئلة الامتحان)

مع أطيب التمنيات بالنجاح والتوفيق

(٢ من ٢)



العام الجامعي ٢٠١١/٢٠١٠ الفصل الدراسي الثاني

لجنة الممتحنين: أ.د. محمد محمد الماحي، أ.د. رفيق بسيم ومحمد، أ.د. الحسين عبد اللطيف الصديقي

تعليمات الإجابة:

أجب على جميع الأسئلة

السؤال الأول: (٤٠ درجة)

عرف كل من:

المشروع - الإهلاك - التخطيط - العمر الاقتصادي والإنتاجي للمشروع - بيئة ومناخ الاستثمار

السؤال الثاني: (١٠٠ درجة)

تناول باختصار (٤) مما يأتي:

١- أساليب تسديد القروض.

٢- عناصر ومكونات المشروع.

٣- طرق حساب إهلاك الأصول الاستثمارية.

٤- مصادر تمويل المشروعات.

٥- أسس ومعايير وقواعد وشروط الإقراض.

٦- القيمة الزمنية للنقود في تقييم المشروعات.

٧- معايير الجدوى المالية والاقتصادية للمشروعات.

السؤال الثالث: (٧٠ درجة)

أذكر فقط: عناصر بيئية ومناخ الاستثمار، ثم اشرح إحداها بالتفصيل

نهاية أسئلة الامتحان

مع أطيب التمنيات بالنجاح والتوفيق،،،

اسم وكود المقرر: ٣٣٢٧
اقتصاديات تسويق منتجات الصناعات الزراعية
مدة الامتحان: ساعتان
تاريخ وميعاد الامتحان: ٢٠١٣/٦/٥ من ٢٠١٢
الدرجة الكلية للامتحان: ٢١٠ درجة



جامعة الإسكندرية
كلية الزراعة
قسم الاقتصاد وإدارة الأعمال الزراعية
الفرقة: الثالثة

العام الجامعي ٢٠١٢/٢٠١٣ الفصل الدراسي الثاني

لجنة الممتحنين: أ.د. الحسين الصيفي أ.د. نشوى التطاوي، أ.د. حسني محييب متولي

تعليمات الإجابة:

أجب على جميع الأسئلة الآتية

السؤال الأول: (٧٠ درجة)

- ١- أذكر أنواع الأسواق؟
- ٢- ماهو التسويق الالكتروني؟ موضحاً هدفه وأهميته وأنواعه؟

السؤال الثاني: (٦٠ درجة)

- ١- عرف التبادل موضحاً أهم الفجوات التي تفصل بين طرفي المبادلة؟
- ٢- أذكر أنواع الجمعيات التعاونية؟ وأهدافها ومشاكلها؟

السؤال الثالث: (٤٠ درجة)

أذكر مناهج البحث في الدراسات التسويقية؟ مع شرح إحداها؟

السؤال الرابع: (٤٠ درجة)

- ١- عرف الكفاءة التسويقية وطرق قياسها ، وطرق تقييمها؟
- ٢- ماهي نوعية البيانات المراد معرفتها عن الأسواق؟

نهاية أسئلة الامتحان

مع أطيب التمنيات بالنجاح والتوفيق،،،

ب
١

اسم وكود المقرر: ٢٢٠٣
اقتصاديات مزارع الإنتاج الحيواني

والداخلي (عربي)

مدة الامتحان: ساعتان

تاريخ وميعاد الامتحان: ٢٠١٣/٦/١٢ من ١٢-٢

الدرجة الكلية للامتحان: ٢١٠ درجة



جامعة الإسكندرية
كلية الزراعة
قسم الاقتصاد وإدارة الأعمال الزراعية
الفرقة: الثالثة

العام الجامعي ٢٠١٣/٢٠١٢ الفصل الدراسي الثاني

لجنة الممتحنين: أ.د. الحسين الصيفي ، أ.د. عبد النبي عبيد ، أ.د. رافيق بسيم محمد

تعليمات الإجابة:

أجب على جميع الأسئلة الآتية

السؤال الأول: (٧٠ درجة)

وضح مع الرسم

توازن المنتج في سوق الاحتكار الكامل في المدى الطويل - مراحل دالة الإنتاج - الناتج المعظم للربح ، الناتج الأمثل - نقطة الإغلاق.

السؤال الثاني: (٧٠ درجة)

١- ماهي محددات النموذج السوقى ثم وضح شروط سوق المنافسة الكاملة ؟

٢- وضح طريقة عمل الميزانية الإنتاجية ؟

٣- ماهي المعايير المستخدمة في دراسة الجدوى الاقتصادية ؟

السؤال الثالث: (٧٠ درجة)

إذا كانت لديك البيانات التالية :

١- سحب المهندس خالد من حسابه الجاري بالبنك مبلغ وقدره ٢٥٠٠٠٠ جنيه أودعهم صندوق مزرعته في يوم

٢٠١٣/١/١

٢- اشترى أعلاف قيمتها ٧٠٠٠ جنيه على الحساب من الشركة المتحدة للأعلاف في يوم ٢٠١٣/١/٢.

٣- باع أعلاف قيمتها ٣٠٠٠ جنيه نقداً في يوم ٢٠١٣/١/٣.

٤- سدد المهندس / خالد مبلغ وقدره ٣٠٠٠ جنيه للشركة المتحدة للأعلاف في يوم ٢٠١٣/١/٤.

٥- استأجر عمالة قيمتها ١٠٠٠ جنيه في يوم ٢٠١٣/١/٥.

المطلوب: تقييد هذه القيود في دفتر يومية وترحيلها إلى دفتر الأستاذ. وعمل ميزان المراجعة بالأرصدة والمجاميع.

نهاية أسئلة الامتحان

مع أطيب التمنيات بالنجاح والتوفيق،،،

أ



العام الجامعي ٢٠١١/٢٠١٠ الفصل الدراسي الثاني

لجنة الممتحنين: ١- أ.د. السيد محمود الشرفاوي ٢- أ.د. حسني هبيب السيد ٣- د. سماح محمد حسن شهاب

تعليمات الإجابة:

١- أجب على جميع الأسئلة

السؤال الأول: (٦٠ درجة)

أثناء أحداث ثورة ٢٥ يناير ٢٠١١ ظهرت على شاشة التلفزيون لافتات كثيرة من ميدان التحرير وتكلم بعض

المهتمين بأحداث الثورة .. وقد شاهدت وسمعت مع اسرتك التلفزيون مايلي:

-- الإسلام هو الحل . -- المطالبة بمصادرة الأراضي التي حصل عليها الرأسماليين.

-- نعم للديموقراطية والعدل والمساواة . -- الأبقاء على الدعم ووصوله لمستحقيه.

-- ظهور صورة الزعيم جمال نابد الناصر وترديد الأغاني التي ترتبط بعصره.

-- المطالبة بإعادة شركات القطاع العام التي تم تخصيصها إلى الدولة.

-- وضع حد أدنى للأجور مع ربط الأجر بالانتاج وإعادة هيكلة الأجور.

-- زيادة المعاشات ومد مظلة التأمين الصحي الشامل لكل العاملين في الدولة.

-- تردد اسم أ.د. كمال الجنزوري استاذ التخطيط القومي ورئيس الوزراء الأسبق كثيراً.

وقد طلب منك أفراد الأسرة التعليق في حدود عشرة سطور فقط على ما رأيت وسمعت من واقع دراستك للنظم

الاقتصادية المقارنة بشكل علمي صحيح عن فحوى ومضمون المشاهدات والأقوال السابقة.. كما طلب منك قول ثلاثة

أو أربعة مصطلحات علمية بمثابة خلاصة القول .. ماذا قلت لهم.. أكتب ماقلته هنا ..؟؟

Handwritten signature

السؤال الثاني: (٦٠ درجة)

"يُدَّعى الغرب أن الغرب ليس لهم أي إسهامات تذكر في الفكر الاقتصادي للمذاهب الاقتصادية" هل من بين

مدرسته من علماء ومفكرين وموضوعات في المذاهب الاقتصادية ما يمكنك من التدايل على كذب أو صدق هذا

الادعاء؟ (الإجابة في حدود عشرة أسطر فقط).

السؤال الثالث: (٦٠ درجة)


أكل نظام اقتصادي "مذهب" و"هيكل" أي بنيان اقتصادي .. اكتب في حدود عشرين سطر فقط عن نظام اقتصادي

واحد تختاره أنت من أحد النظامين الرأسمالي أو الاشتراكي تؤكد فيه المعنى السابق كما تؤكد فيه أنك تعرف الأسس

والمبادئ التي يرتكز عليها النظام الذي اخترته والتي تميزه تميزاً واضحاً - علمياً - عن غيره .. ولك الحرية في

ضرب المثل والتدايل على ما تقوله من الواقع العملي من تجارب الشعوب المختلفة.

نهاية أسئلة الامتحان





لهيئة المحققين: أ.م.د. نوالينيا السيد صالح ك. أ.م.د. توفيق عبد المنعم مصطفى ٣- أ.م.د. محمد محمد الماحي

تعليمات الإجابة:

أجب على ثلاثة أسئلة فقط مما يأتي:

السؤال الأول: (٧٠ درجة)

أ- بين أسباب مظاهر اختلال الأسعار في مصر.

ب- وضح العوامل المؤثرة على الأسعار.

السؤال الثاني: (٧٠ درجة)

ما هو دور الأسعار في النظامين الاشتراكي والرأسمالي.

السؤال الثالث: (٧٠ درجة)

أذكر مراحل تطور التسعير للمنتجات الزراعية في مصر ، مع ذكر أهم الإجراءات المتبعة في تلك المراحل.

السؤال الرابع: (٧٠ درجة)

حدد سعر التوازن في سوق المنافسة الكاملة وسوق الاحتكار بالرسم البياني.

نهاية أسئلة الامتحان



العام الجامعي ٢٠١١/٢٠١٠ الفصل الدراسي الثاني

لجنة الممتحنين: أ.د. أيمن السيد صالح ، أ.د. نجوى عبد المنعم مصطفى ، أ.د. محمد محمد الهادي

تعليمات الإجابة:

أجب على جميع الأسئلة

السؤال الأول: (٦٠ درجة)

١- عرف ما يأتي: السياسة السعرية ، الطلب ، أنواع الطلب والمرونة الطلبية ، المعدل الأمثل للضريبة، سعر التصدير، سعر الصرف، سعر الظل، سعر المزرعة، فجوة الطلب .

٢- إذا توافرت لديك البيانات التالية لإحدى السلع وكانت دالة العرض والطلب كما يلي $Q_s = 2P - 2$ ،

$Q_d = 10 - P$ حيث P السعر المزرعي ، ووضح التوازن السوقي قبل فرض الضريبة وبعد فرض ضريبة نوعية مقدارها جنيه مع رسم وضع التوازن في الحالتين.

السؤال الثاني: (٦٠ درجة)

١- ما أهداف السياسة السعرية مع بيان وظيفتها وتأثيراتها.

٢- السياسة السعرية خلال الفترة ٧٤ - حتى وقتنا الحاضر مع بيان ملامحتها.

السؤال الثالث: (٦٠ درجة)

١- توازن السوق في سوق المنافسة الكاملة والاحتكار التام والمنافسة الاحتكارية مع إيضاح متى يتم التوازن في

ظل النظرية العنكبوتية مع الرسم البياني كلما أمكن ذلك.

٢- بالرسم البياني فقط حدد العوامل المؤثرة على السعر المزرعي .

٣- اختلال الأسعار في الاقتصاد المصري - ماذا ترى لحلها.

السؤال الرابع: (٣٠ درجة)

في ضوء دراستك لتحليل الأسعار وضح مفهوم التضخم عند كينز وهل ينطبق على المقتصد المصري ثم أوجد أحد

معايير قياسه لدى الاقتصاد المصري وفسر أسباب التضخم في مصر.

نهاية أسئلة الامتحان

اسم ركود المقرر: ٢٠٢٠٢٠٢
اقتصاديات مزارع الانتاج الحيواني
والسمكي والداخلي



جامعة الإسكندرية
كلية الزراعة
قسم الاقتصاد وإدارة الأعمال الزراعية
الفرقة: الثالثة

مدة الامتحان: ساعتان
تاريخ وميعاد الامتحان: ٢١/٥/٢٠١٥ من ٢٠١٢
الدرجة الكلية للامتحان: ٢١٠ درجة

العام الجامعي ٢٠١٤/٢٠١٥ الفصل الدراسي الثاني

لجنة الممتحنين: أ.د. الحسين الصيبي، م.إ. الحافظ، د. هشام حسين

تعليمات الإجابة:

أجب على جميع الأسئلة الآتية

السؤال الأول: (٧٠ درجة)

وضح مع الرسم

مرحلة دالة الإنتاج -- الناتج المعظم الربح ، الناتج الأمثل، نقطة الإغلاق- توازن المنتج في سوق الاحتكار الكامل في المدى الطويل

السؤال الثاني: (٧٠ درجة)

١- العوامل المؤثرة على الطلب.

٢- محددات النموذج السوقي.

٣- ماهي المعايير المستخدمة في دراسة الجدوى الاقتصادية

السؤال الثالث: (٧٠ درجة)

إذا كانت لديك البيانات التالية :

- ١- سحب المهندس دمر من حسابه الجاري بالبنك مبلغ وقدره ٣٠٠٠٠٠ جنيه أودعهم صندوق مزرعته في يوم ٢٠١٥/١/١.
- ٢- اشترى أعلاف قيمتها ٥٠٠٠٠ جنيه على الحساب من الشركة المتحدة للأعلاف في يوم ٢٠١٥/١/٢.
- ٣- باع أعلاف قيمتها ٢٠٠٠٠ جنيه نقداً في يوم ٢٠١٥/١/٣.
- ٤- سدد المهندس / دمر مبلغ وقدره ٣٠٠٠٠ جنيه الشركة المتحدة للأعلاف في يوم ٢٠١٥/١/٤.
- ٥- استأجر عمالة قيمتها ١٥٠٠٠ جنيه في يوم ٢٠١٥/١/٥.

المطلوب: تقييد هذه القيود في دفتر يومية وترحيلها إلى دفتر الأستاذ. وعمل الميزانية بالأرصدة والمجاميع.

نهاية أسئلة الامتحان

مع أطيب التمنيات بالنجاح والتوفيق،،،



العام الجامعي ٢٠١١/٢٠١٠ الفصل الدراسي الثاني

لجنة الممتحنين: أ.د. السيد الشرقاوي، أ.د. سمير زغلول، أ.د. حسني حبيب

تعليمات الإجابة:

أجب على جميع الأسئلة

السؤال الأول: (٦٠ درجة)

- ١- إذا كانت الخدمات التسويقية ليست هي الوظائف التسويقية .. أكتب خمسة سطور فقط توضح الفرق بينهما إذا كان موجوداً من وجهة نظرك؟ (٢٠ درجة)
- ٢- نحن حالياً نشكك في أمن أن أي زيادة في سعر لتر الدولار ستؤثر سلباً على المستهلك .. ما دخل هذا الأمر بالسلع الزراعية .. ما دخل هذا الأمر بالسلع الزراعية .. طالما لدينا وسائل نقل عديدة ومختلفة؟ (٢٠ درجة)
- ٣- يقال أن التخزين يتسبب في زيادة تكاليف التسويق .. متى تتصحح البائع أو المنتج بتخزين السلعة لفترة معينة لكي يزيد من عائده الكلي؟ (٢٠ درجة)

السؤال الثاني: (٦٠ درجة)

- ١- فرق بين كل من: تاجر الجملة، تاجر التجزئة، والوسيط شبه التاجر أسواق البضاعة الحاضرة، وأسواق البضاعة المستقبلية، الأسواق المركزية للتجميع.
- ٢- أذكر أهم اعتبارات التدخل الحكومي في تحديد الأسعار، ثم بين الآثار المترتبة على تحديد سعر أعلى من سعر التوازن (استعن بالرسم).

السؤال الثالث: (٦٠ درجة)

- ١- تناول مفهوم السوق الكاملة مبيناً العناصر الرئيسية التي يستند إليها هذا المفهوم.
- ٢- تستهدف سياسة التسويق المنظم زيادة دخل المزارعين، بين كيف يمكن تحقيق ذلك عن طريق أسلوب التفرقة السعرية (استعن بالرسم)

نهاية أسئلة الامتحان

مع أطيب التمنيات بالنجاح والتوفيق،،،



اسم ونوع البعثة: التمرين والامتحان الزراعي
(٠٣٣٢٥)

مدة الامتحان: ساعتان

تاريخ وميعاد الامتحان: ٢٠١٢/٩/١٥ (١٢ - ٢)

الدرجة الكلية للامتحان: ٢٠٠ درجة

الفصل الدراسي الصيفي (صيف ٢٠١٢)

لجنة المستعنين: ١- أ.د. رفيق بسيم. ٢- أ.د. رفعت أفوشة. ٣- د. سامح شهاب.

تعليمات الإجابة: ١- أجب على الأسئلة الآتية، مع مراعاة تنظيم الإجابة.

٢- عدد الصفحات: (صفحة واحدة فقط).

السؤال الأول: عرف المفاهيم التمويلية والائتمانية التالية: (٦٠ درجة)

التمويل - علم التمويل الزراعي - الائتمان الزراعي - الإدارة المالية - نقطة التعادل -
المشروعات الصغيرة - سعر الفائدة - الجدارة الائتمانية - العجز المالي - ائتمان جيد -
الاستراتيجية العامة للبنك - ائتمان مشكوك في تحصيله - ديون معدومة - الديون المتعثرة -
- ائتمان دون المستوى - ائتمان موجب - ائتمان رديء - الفاقد الائتماني - ائتمان سالب -
- الطلب الائتماني النعال

السؤال الثاني: اذكر فقط كل من:

١- أنواع الائتمان وفقاً للأجل. ٢- سلسلة عمليات الائتمان. ٣- الأهداف العامة للبنك.
٤- أنواع ضمانات القروض. ٥- مقومات نجاح وفاعلية نظام متابعة القروض.
٦- معايير الجدارة الائتمانية. ٧- عناصر الائتمان. ٨- خصائص الوظيفة المالية.

السؤال الثالث: (٦٠ درجة)

"يمكننا تقييم أداء المؤسسات البنكية من خلال استخدام مجموعة من المقاييس
والمؤشرات، بتقدير حجم الاجاز واتخاذ قرارات التناسبية"

في ضوء ذلك اذكر كل من:

(١) المقاييس والمؤشرات المستخدمة في تقييم أداء بنوك الائتمان الزراعي "المقننور المؤسسي".
(٢) العوامل التي يتوقف عليها فاعلية مقاييس ومؤشرات تقييم الأداء لبرامج بنوك الائتمان
الزراعي.

(نهاية أسئلة الامتحان)

مع أطيب التمنيات بالنجاح والتوفيق

Agric Economic 329
 The Economic of Food Processing
 Industries Feasibility Study
 Hours:2
 Time and Date:3/1/2013 12-2
 Degree: 210



Alex of Alexandria
 Faculty of Agric
 Dept. of Economics &
 Agribusiness

Final Exam. 1st Semester
 2012/2013

Committee: Prof Dr. Ismail Farh, Prof. Dr. Nashwa El-Tatawy

First Question : (75 degree)

Answer the following questions

- 1- What is 10"s M ?
- 2- What is the technical evaluation?
- 3- What is the Break -- Even point ?
- 4- Compare between: Financial , and economic project analysis.
- 5- Estimate and Explain the following
 Project performance measures:
 - a) Operating Ratio
 - b) Return on Sale
 - c) Return on Equity
 - d) Return on Assets
 - e) Debt service coverage ratio

Second Question : (50 degree)

How to take a loan and pay back it to the bank?

Third Question : (85 degree)

An investor has presented the following data pertaining to an agricultural project to a bank to finance it, assuming that capital opportunity cost is 10%.

Years	Total Revenue	Total Cost	Discount Rate			
			10%	15%	20%	25%
1	-	3000	0.909	0.870	0.833	0.800
2	1000	2000	0.836	0.756	0.694	0.640
3	4000	1000	0.751	0.658	0.579	0.512
4	3000	1000	0.683	0.572	0.482	0.410
5	2000	1000	0.621	0.497	0.402	0.328

Based on what you have studied, would you recommended to the bank to carry out this project? Sate why or why not?

End exam
 Good luck

Year	1%	3%	5%	6%	8%	10%	12%
1	0.990	0.971	0.952	0.943	0.926	0.909	0.893
2	1.970	1.914	1.859	1.833	1.783	1.736	1.690
3	2.941	2.829	2.723	2.673	2.577	2.487	2.402
4	3.908	3.717	3.546	3.465	3.312	3.170	3.037
5	4.85	4.580	4.330	4.212	3.993	3.791	3.605
6	5.791	5.417	5.076	4.917	4.623	4.355	4.111
7	6.728	6.250	5.766	5.582	5.206	4.868	4.564
8	7.653	7.070	6.463	6.210	5.747	5.335	4.968
9	8.566	7.886	7.108	6.802	6.247	5.759	5.328
10	9.471	8.530	7.722	7.360	6.710	6.145	5.650
11	10.368	9.253	8.306	7.887	7.159	6.495	5.938
12	11.255	9.954	8.863	8.382	7.536	6.814	6.194
13	12.134	10.628	9.391	8.853	7.904	7.103	6.426
14	13.004	11.296	9.899	9.298	8.244	7.367	6.628
15	13.865	11.958	10.380	9.712	8.559	7.606	6.811
16	14.718	12.611	10.838	10.106	8.851	7.824	6.974
17	15.563	13.166	11.274	10.477	9.122	8.022	7.120
18	16.398	13.724	11.690	10.828	9.372	8.201	7.250
19	17.223	14.284	12.088	11.158	9.604	8.365	7.366
20	18.040	14.847	12.462	11.470	9.818	8.514	7.469



العام الجامعي ٢٠١٣/٢٠١٢ الفصل الدراسي الأول

لجنة الممتحنين: ١- أ.د. نشوى التلاوي. ٢- أ.د. الحسين الصيقي. ٣- د. سامح شهاب.

تعليمات الإجابة: أجب على الأسئلة الآتية.

السؤال الأول: (٦٠ درجة)

أذكر في نقاط محددة مستخدماً بالمعادلات الرياضية والرسم البيانيه كلما أمكن ذلك:

- ١- عناصر الإنتاج الصناعي.
- ٢- التخطيط.
- ٣- اهلاك الآلات.
- ٤- نقطة التعادل.
- ٥- التنظيم.

٦- الفرق بين التقييم المالي والاقتصادي لمشروعات الصناعات الغذائية

السؤال الثاني: (٨٠ درجة)

الجدول التالي يوضح الإيرادات والتكاليف المتوقعة لأحد المشروعات الصناعات الغذائية

السنة	إجمالي الإيرادات	إجمالي التكاليف	سعر الخصم			
			%١٠	%١٥	%٢٠	%٢٥
١	---	٣٠٠٠	٠,٩٠٩	٠,٨٧٠	٠,٨٣٣	٠,٨٠٠
٢	١٠٠٠	٢٠٠٠	٠,٨٣٦	٠,٧٥٦	٠,٦٩٤	٠,٦٤٠
٣	٤٠٠٠	١٠٠٠	٠,٧٥١	٠,٦٥٨	٠,٥٧٩	٠,٥١٢
٤	٣٠٠٠	١٠٠٠	٠,٦٨٣	٠,٥٧٢	٠,٤٨٢	٠,٤١٠
٥	٢٠٠٠	١٠٠٠	٠,٦٢١	٠,٤٩٧	٠,٤٠٢	٠,٣٢٨

المطلوب: إجراء التحليل المالي لهذا المشروع. وأذكر انطباعاتك عن هذا المشروع إذا علمت أن تكلفة الفرصة البديلة ١٠%.

السؤال الثالث: (٧٠ درجة)

- (١) وضح مع الرسم مراحل دالة الإنتاج - (الناتج المعظم للربح - الناتج الأمثل - نقطة الإغلاق)
 - (٢) محددات النموذج السوقي موضعاً توازن المنتج في سوق الاحتكار الكامل في المدى الطويل.
- (نهاية أسئلة الامتحان)

مع أطيب التمنيات بالنجاح والتوفيق

اسم وكود المقرر: ٣٣٠٣
اقتصاديات مزارع الإنتاج الحيواني
والسمكي والداخلي (عربي)
مدة الامتحان: ساعتان
تاريخ وميعاد الامتحان: ٢٠١٤/١/٤ من ٢٠١٢
الدرجة الكلية للامتحان: ١٢٠ درجة



جامعة الإسكندرية
كلية الزراعة
قسم الاقتصاد وإدارة الأعمال الزراعية
الفرقة: ثالثة

العام الجامعي ٢٠١٣/٢٠١٤ الفصل الدراسي الأول

لجنة الممتحنين: أ.د. الحسين الصيفي أ.د. عون خير الله عون ، د. سامح شهاب

تعليمات الإجابة:

أجب على جميع الأسئلة الآتية

السؤال الأول: (٤٠ درجة)

وضح مع الرسم

تمدد وانكماش الطلب - توازن المنتج في سوق الاحتكار الكامل في المدى الطويل - مراحل دالة الإنتاج - الناتج المعظم للربح ، الناتج الأمثل ، نقطة الإغلاق.

السؤال الثاني: (٤٠ درجة)

١- مميزات النموذج السوقي.

٢- العوامل المؤثرة على الطلب

٣- وضح طريقة عمل الميزانية الإنتاجية

٤- ماهي المعايير المستخدمة في دراسة الجدوى الاقتصادية

السؤال الثالث: (٤٠ درجة)

إذا كانت لديك البيانات التالية :

١- سحب المهندس أحمد من حسابه الجاري بالبنك مبلغ وقدره ٢٠٠٠٠٠ جنيه أودعهم صندوق مزرعته في يوم ٢٠١٣/١/١.

٢- اشترى أعلاف قيمتها ٥٠٠٠ جنيه على الحساب من الشركة المتحدة للأعلاف في يوم ٢٠١٣/١/٢.

٣- باع أعلاف قيمتها ٢٠٠٠ جنيه نقداً في يوم ٢٠١٣/١/٣.

٤- سدد المهندس / أحمد مبلغ وقدره ٣٠٠٠٠ جنيه للشركة المتحدة للأعلاف في يوم ٢٠١٣/١/٤.

٥- استأجر عمالة قيمتها ٥٠٠ جنيه في يوم ٢٠١٣/١/٥.

المطلوب: تقييد هذه القيود في دفتر يومية وترحيلها إلى دفتر الأستاذ. وعمل الميزانية بالأرصدة والمجاميع.

نهاية أسئلة الامتحان

مع أطيب التمنيات بالنجاح والتوفيق ،،،

University of Alexandria
Faculty of Agriculture
Dept. Econ. & Agribusiness



0312 agricultural Marketing
2 Hours
Date and Time: 8/1/2014 12-1
Degree: B.A.
Third Year (Aric. Ext. E. G. Dept.)

First Semester 2013/2014

Exam. Committee: Prof. Dr. Saad Zaghloul, Prof. Dr. El-Sayed El-Sharawy,
Prof. Dr. El-Musselem El-Seify

Answer the following Questions:

(1) A- What is the relation between the marketing functions and kinds of utilities
(20 degree)

B- Explain in detail the mid-Herren Approach in Agric. Marketing (20 degree)

(2) A- Some Body Say That "we have get rid of Middlemen to raise the marketing
Efficiency", It's true or false and Why. ? (20 degree)

B- What are the main Agricultural Marketing Problems? (20 degree)

(3) Short notes Answer:

A- Risk & Insurance (20 degree)

B- Agricultural Marketing services (20 degree)

(End Exam)

Good Luck



العام الجامعي ٢٠١٣/٢٠١٢ الفصل الدراسي الأول

لجنة المحققين: أ.د. السيد الشرفاوي، أ.د. حسني حبيب، أ.د. سيد زغلول

تعليمات الإجابة:

أجب على جميع الأسئلة

السؤال الأول: (٧٠ درجة)

(أ) عرف كل من : التليشة - القماط -- الهامش التسويقي - الخدمات التسويقية - التوحيد القياسي؟

(ب) أذكر مراحل عملية الشراء؟ (ج) ماهي الأهمية الاقتصادية للتخزين؟

السؤال الثاني: (٧٠ درجة)

(أ) بين أنواع الوسطاء والتسويقيون الزراعيون مفرقا بين كل من الوسيط التاجر والوسيط العميل وكذلك تاجر الجملة وتاجر التجزئة؟

(ب) تناول بايجاز كل من:

- الجماعات التسويقية الزراعية وأهداف كل منها؟

- مفهوم السوق الكاملة وعناصرها؟

- أذكر فقط مناهج البحث في الدراسات التسويقية مع شرح واحدة منها؟

السؤال الثالث: (٧٠ درجة)

أذكر شروط تطبيق سياسة التفرقة السعرية لبيع سلعة معينة في مكانين أي سوقين مختلفين لتحقيق أكبر إجمالي دخل للمنشأة التسويقية مع الاستعانة بالرسم البياني؟

دخول للمنشأة التسويقية مع الاستعانة بالرسم البياني؟

نهاية أسئلة الامتحان

مع أطيب التمنيات بالنجاح والتوفيق،،،



First Semester 2015/2016

Exam. Committee: Prof. Dr. Mahmoud A. Shafey Prof. Dr. Aon Khairalla Aon,
Dr. Mohamed Aly Fathallah

Answer the following Questions:

- (1) A- Explain the purpose of : 1- Accounting. (4 degree)
2- Trade Account.
3- Profit and lose account.
4- Trial balance.

B- Define the following concepts:

- 1- Assets
2- Liabilities.
3- Owner's equity.
4- Balance sheet equation.

- (2) From the following General Journal Make the Ledger and trial balance. (4 degree)

Date	Account	LP	Debit	Credit
2015 March 1	Cash	1	100000	
	Capital	2		100000
15	Equipment	3	10000	
	Cash	1		10000
18	Rent expense	4	2000	
	Cash	1		2000
25	Salaries expense	5	3000	
	Cash	1		3000
27	Cash	1	5000	
	Sales	6		5000
30	Building	7	10000	
	Cash	1		10000

- (3) from the following data about kamel corporation on December 31, 2013

Make: (4 degree)

- a- trade account
b- profit and lose account
c- balance sheet.

Sales 60000, Beginning inventory 3200, Purchases 43100, Ending inventory 3600,
salary 5000, Heating and Lighting expense 800, Rent 2620, Cash 10200, Accounts
Receivable 5000, Equipment 2600, Accounts Payable 1620, Capital 15000, Drawings
4100.

(End Exam)

Good Luck

Alexandria University
Faculty of Agricultural
Department of Economics and
Agribusiness



Subject: Agric. Econ. 312 Economics
of Agricultural Marketing (English)
Final Exam 2011/2012
First Term

Question one: Define

- (1) What is Marketing
- (2) What is a Market
- (3) What is a Commodity
- (4) What are the conditions which makes the Market Perfect any Commodity.

Question two:

- (1) What is the classification of the marketing functions.
- (2) What is the classification of the middlemen of marketing .
- (3) What are the characteristics of agricultural production.

Question three:

- (a) What are the characteristics of Agricultural products and production which affect its marketing.
- (b) Why marketing costs of agricultural commodities will continue to be large in the future.

End Exam

A. Elfeel

Agric Economic 329
 The Economic of Food Processing
 Industries Feasibility Study
 Hours:2
 Time and Date:3/1/2013 12-2
 Degree: 210



Alex of Alexandria
 Faculty of Agric
 Dept. of Economics &
 Agribusiness

Final Exam. 1^d Semester
 2012/2013

Committee: Prof Dr. Ismail Farh, Prof. Dr. Nashwa El-Tatawy

First Question : (75 degree)

Answer the following questions

- 1- What is 10''s M ?
- 2- What is the technical evaluation?
- 3- What is the Break -- Even point ?
- 4- Compare between: Financial , and economic project analysis.
- 5- Estimate and Explain the following
 Project performance measures:
 - a) Operating Ratio
 - b) Return on Sale
 - c) Return on Equity
 - d) Return on Assets
 - e) Debt service coverage ratio

Second Question : (50 degree)

How to take a loan and pay back it to the bank?

Third Question : (85 degree)

An investor has presented the following data pertaining to an agricultural project to a bank to finance it, assuming that capital opportunity cost is 10%.

Years	Total Revenue	Total Cost	Discount Rate			
			10%	15%	20%	25%
1	-	3000	0.909	0.870	0.833	0.800
2	1000	2000	0.836	0.756	0.694	0.640
3	4000	1000	0.751	0.658	0.579	0.512
4	3000	1000	0.683	0.572	0.482	0.410
5	2000	1000	0.621	0.497	0.402	0.328

Based on what you have studied, would you recommended to the bank to carry out this project? Sate why or why not?

End exam
 Good luck

Years	1%	3%	5%	6%	8%	10%	12%
1	0.990	0.971	0.952	0.943	0.926	0.909	0.893
2	1.970	1.914	1.859	1.833	1.783	1.736	1.690
3	2.941	2.829	2.723	2.673	2.577	2.487	2.402
4	3.907	3.717	3.546	3.465	3.312	3.170	3.037
5	4.85	4.580	4.330	4.212	3.993	3.797	3.608
6	5.791	5.417	5.076	4.917	4.623	4.355	4.111
7	6.728	6.230	5.786	5.582	5.206	4.868	4.564
8	7.652	7.020	6.463	6.210	5.747	5.335	4.968
9	8.566	7.788	7.108	6.802	6.247	5.759	5.328
10	9.471	8.530	7.722	7.360	6.710	6.145	5.650
11	10.368	9.253	8.306	7.887	7.130	6.495	5.930
12	11.255	9.954	8.863	8.384	7.536	6.814	6.194
13	12.134	10.638	9.394	8.853	7.904	7.103	6.434
14	13.004	11.296	9.899	9.295	8.244	7.367	6.628
15	13.865	11.938	10.380	9.712	8.559	7.606	6.811
16	14.718	12.561	10.838	10.106	8.851	7.824	6.974
17	15.562	13.166	11.274	10.477	9.122	8.022	7.126
18	16.398	13.754	11.690	10.828	9.372	8.201	7.258
19	17.226	14.324	12.088	11.158	9.604	8.365	7.366
20	18.046	14.877	12.462	11.470	9.818	8.514	7.469



Second Semester 2012/2013

Exam. Committee : Prof. Dr. A. El-Feel , Prof Dr. N. El-Tatawy, Prof. Dr. El. Habib.

Answer the following questions:

1. What is marketing?
2. What is the market?
3. What is the commodity?
4. Why is the marketing important?
5. What is the meaning of marketing function?
6. What is the standardization function?
7. What is the perfect competitive market?
8. What are the factors determining consumption at national level?
9. What are the risk-bearing?
10. What are the types of business firm?
11. Explain two types only of business firm?
12. what is the middlemen of marketing?
13. what are the importance of facilitating organization?
14. what is the facilitating function?
15. what is the horizontal integration?

End exam
Good luck



Final Exam. 1st Semester
 2011/2012

Committee: Prof Dr. Ismail Farh, Prof. Dr. Nashwa El-Tatawy

First Question : (130 degree)

Answer the following questions

- 1- What is the project?
- 2- What is the project cycle?
- 3- Meaning of project feasibility study ?
- 4- What is the discount factor?
- 5- What are the benefit/cost ratio and IRR ratio?
- 6- Compare between: Financial, and economic project analysis.
- 7- Estimate and Explain the following
 Project performance measures:
 - a) Operating Ratio
 - b) Return on Sale
 - c) Return on Equity
 - d) Return on Fixed Assets
 - e) Fixed Assets turn over
 - f) Payback Period
 - g) Break -- Even point Analysis.

Second Question : (80 degree)


An investor has presented the following data pertaining to an agricultural project to a bank to finance it, assuming that capital opportunity cost is 10%.

Years	Total Revenue	Total Cost	Discount Rate			
			10%	15%	20%	25%
1	-	5000	0.909	0.870	0.833	0.800
2	-	2000	0.836	0.756	0.694	0.640
3	4000	1000	0.751	0.653	0.579	0.512
4	4000	1000	0.683	0.572	0.482	0.410
5	4000	1000	0.621	0.497	0.402	0.328
6	3000	1000	0.564	0.432	0.335	0.262
7	2000	1000	0.513	0.376	0.279	0.210

Based on what you have studied, would you recommended to the bank to carry out this project? State why or why not?

End exam
 Good luck

University of Alexandria
 Faculty of Agriculture
 Dept. Econ. & Agribusiness



07-27
 2 Hours
 Date and Time: 1 / 1 / 2014 12-2
 Page: 2/0

First Semester 2013/2014

Exam. Committee: Prof. Dr. M. El-Tahawy, Prof. Dr. H. El-Safty
 Dr. S. El-Nahy

Answer the following questions

First Question: (100 marks)

Discuss and explain the following:

- 1- break even point
- 2- cost fixing
- 3- present value
- 4- controlling
- 5- organization
- 6- planning
- 7- direction
- 8-10 M.S.

Second Question: (50 marks)

A farmer has presented the following data pertaining to an agricultural project to a bank or financial institution, assuming that capital opportunity cost is 10%.

Year	Total Revenue	Total Cost	Interest Rates			
			10%	15%	20%	25%
1	0	2000	0.91	0.87	0.83	0.80
2	1000	1500	0.83	0.75	0.68	0.64
3	1500	900	0.75	0.68	0.57	0.52
4	1000	900	0.68	0.57	0.47	0.44
5	1500	900	0.62	0.47	0.40	0.32
6	1500	900	0.57	0.43	0.37	0.26
7	1500	900	0.51	0.37	0.27	0.21

Based on what you have studied, would you recommend to the bank to carry out this project? State why or why not?

End Exam
 Good luck